

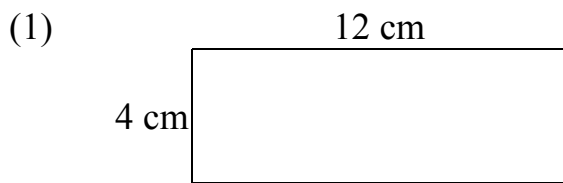
新界婦孺福利會梁省德學校
上學期——數學練習六(周界)

班別：____午三年級____班

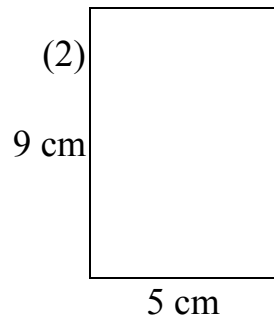
成績：_____

姓名：_____ (____)

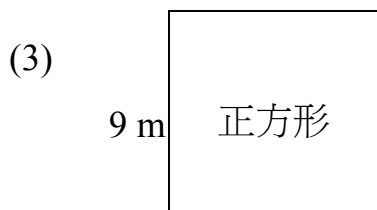
日期：_____




周界：_____ cm



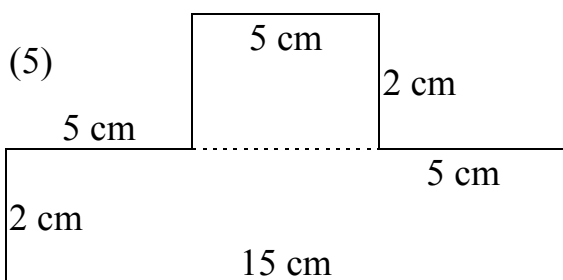
周界：_____ cm



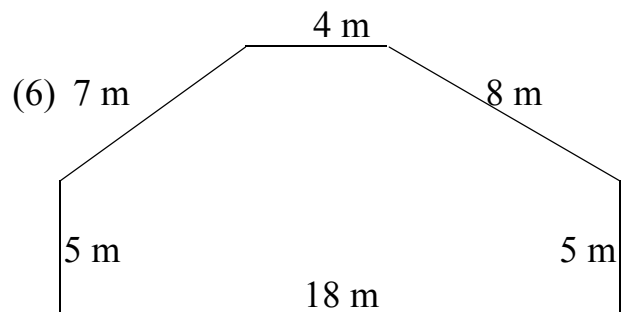
周界：_____ m



周界：_____ m



周界：_____ cm



周界：_____ m

(7) 一個正方形的周界是 60cm, 它的邊長是多少 cm? (7) _____ cm

(8) 一個長方形的周界是 80m, 長是 30m, 闊是多少 m? (8) _____ cm

(9) 一個正方形的邊長是 36cm, 它的周界是多少 cm? (9) _____ cm

(10) 一個長方形的長是 24m, 闊是 18m, 它的周界是多少 m? (10) _____ m

(11) 正方形水池的周界是 56m, 它的邊長是多少 m? (11) _____ m

(12) 長方形郵票的周界是 10cm, 長是 3cm, 闊是多少 cm? (12) _____ cm

(13) 一個等邊三角形的邊長是 16cm, 它的周界是多少 cm?(13)

cm
